

But de cette Fiche de travail : découvrir qui sont les réfugiés climatiques et où ils se réfugient.

Cette Fiche de travail se divise en deux activités :

Activité n° 1 : Répondre à des questions sur les réfugiés climatiques.

Réponds sur ton cahier aux questions suivantes grâce au documentaire et au document 1 ci-dessous :

• Questions sur 1^{ère} partie du documentaire et sur le document 1 :

1. Qu'est-ce qu'un réfugié climatique ?
2. Combien compte-t-on approximativement de réfugiés climatiques chaque année actuellement ?
3. Quelles sont les quatre catastrophes naturelles qui entraînent le plus de réfugiés climatiques ?
4. Dans quelles parties du monde trouve-t-on le plus de réfugiés climatiques ?

• Question sur 2^{nde} partie du documentaire :

5. Laquelle des quatre catastrophes naturelles que tu as découvertes en répondant à la question 3 ci-dessus ont obligé Amina Humina Husein à quitter son pays (le Soudan) avec sa famille ?

Document 1 : Pourquoi les réfugiés climatiques quittent-ils leur pays ?

« L'ONU annonce 250 millions de réfugiés climatiques vers 2050. Pour la seule année 2015, 19 millions de personnes ont été déplacées à cause de phénomènes climatiques extrêmes. Bien sûr, les mouvements de populations ayant pour origine l'environnement ont toujours existé dans l'histoire de l'humanité. En revanche, 85 % des événements climatiques extrêmes qui poussent les populations à l'exil sont désormais liés au réchauffement climatique. C'est une donnée nouvelle » [...].

D'après le journal *L'Humanité*, 15 novembre 2015.




Activité n° 2 : Compléter un croquis des déplacements des réfugiés climatiques dans le monde.

Cette seconde activité consiste à compléter la légende et le croquis des déplacements des réfugiés climatiques dans le monde [Document A sur la photocopie que tu as collée sur ton cahier].

Pour faire ce travail, lis bien les consignes suivantes :

① Regarde la première partie de la légende du Document A. Elle contient trois pictogrammes différents que tu retrouves en bas de ta photocopie. Tu dois les découper afin de les coller aux bons endroits sur ton croquis. Pour savoir où les coller, lis le Document 2 ci-dessus. Si tu veux connaître des localisations précises, regarde la carte à la fin de ton manuel (derrière la couverture).

② Regarde la deuxième partie de la légende du Document A grâce au Document 2 ci-dessus. Sur ton croquis, tu dois :

- Entourer avec des pointillés  les régions les plus concernées par les changements climatiques et écrire leur nom.
- Dessiner des flèches  montrant les déplacements des réfugiés climatiques.
- Entourer avec un feutre noir  les régions où arrivent les réfugiés climatiques. Ecrire leur nom.

Document 2 : Quels sont les principales conséquences des changements climatiques et quelles sont les régions les plus concernées?

Les principales conséquences des changements climatiques sont :

- les sécheresses et la dégradation des sols : l'Afrique subsaharienne est la région la plus touchée par ce phénomène mais ce n'est pas la seule. La côte Ouest des Etats-Unis (Californie) est aussi particulièrement concernée.
- les cyclones et les tempêtes : l'Asie du Sud-Est, région la plus peuplée du globe, est la plus exposée. Les côtes Est du Mexique et des Etats-Unis connaissent également régulièrement ce phénomène.
- la montée du niveau des mers : elle risque de faire disparaître les petits archipels du Pacifique et de l'Océan Indien comme les îles Marshall, les îles de la Polynésie française, les Maldives, etc.

Les réfugiés climatiques d'Afrique subsaharienne cherchent à se rendre en Europe en traversant la Méditerranée et les habitants des îles du Pacifique et de l'Océan Indien espèrent trouver refuge en Australie par exemple.